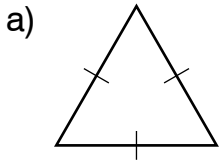
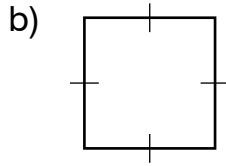


¿Son rombos o no?

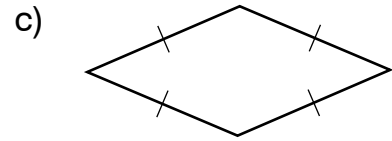
1. Responde sí (✓) o no (X).



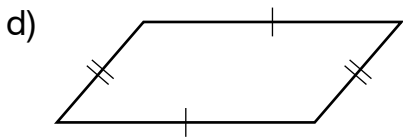
¿Es un cuadrilátero? _____
 ¿Todos los lados son iguales? _____
 ¿Es un rombo? _____



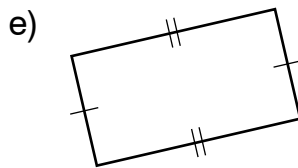
¿Es un cuadrilátero? _____
 ¿Todos los lados son iguales? _____
 ¿Es un rombo? _____



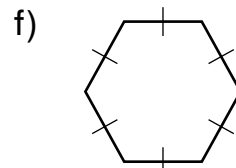
¿Es un cuadrilátero? _____
 ¿Todos los lados son iguales? _____
 ¿Es un rombo? _____



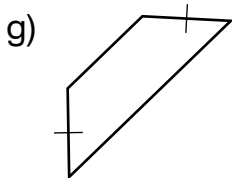
¿Es un cuadrilátero? _____
 ¿Todos los lados son iguales? _____
 ¿Es un rombo? _____



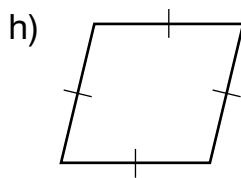
¿Es un cuadrilátero? _____
 ¿Todos los lados son iguales? _____
 ¿Es un rombo? _____



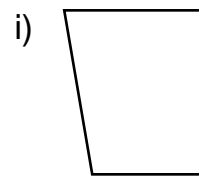
¿Es un cuadrilátero? _____
 ¿Todos los lados son iguales? _____
 ¿Es un rombo? _____



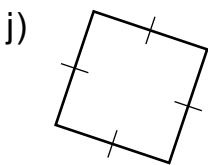
¿Es un cuadrilátero? _____
 ¿Todos los lados son iguales? _____
 ¿Es un rombo? _____



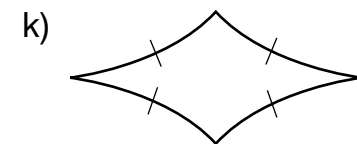
¿Es un cuadrilátero? _____
 ¿Todos los lados son iguales? _____
 ¿Es un rombo? _____



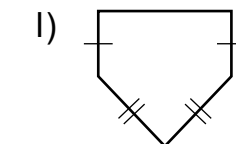
¿Es un cuadrilátero? _____
 ¿Todos los lados son iguales? _____
 ¿Es un rombo? _____



¿Es un cuadrilátero? _____
 ¿Todos los lados son iguales? _____
 ¿Es un rombo? _____



¿Es un cuadrilátero? _____
 ¿Todos los lados son iguales? _____
 ¿Es un rombo? _____



¿Es un cuadrilátero? _____
 ¿Todos los lados son iguales? _____
 ¿Es un rombo? _____