

¿Son rectángulos o no?

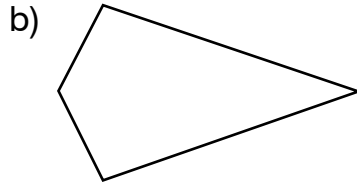
1. Responde sí (✓) o no (X).



¿Es un cuadrilátero? ____

¿Tiene 4 ángulos rectos? ____

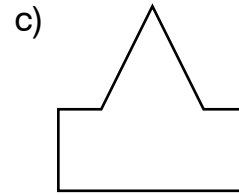
¿Es un rectángulo? ____



¿Es un cuadrilátero? ____

¿Tiene 4 ángulos rectos? ____

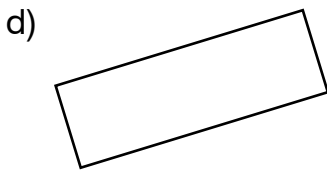
¿Es un rectángulo? ____



¿Es un cuadrilátero? ____

¿Tiene 4 ángulos rectos? ____

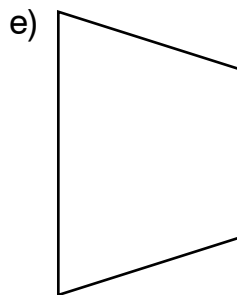
¿Es un rectángulo? ____



¿Es un cuadrilátero? ____

¿Tiene 4 ángulos rectos? ____

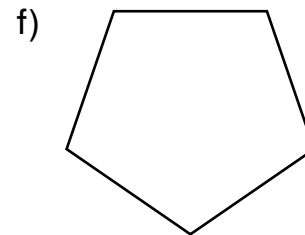
¿Es un rectángulo? ____



¿Es un cuadrilátero? ____

¿Tiene 4 ángulos rectos? ____

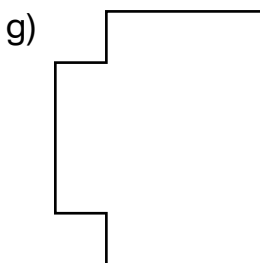
¿Es un rectángulo? ____



¿Es un cuadrilátero? ____

¿Tiene 4 ángulos rectos? ____

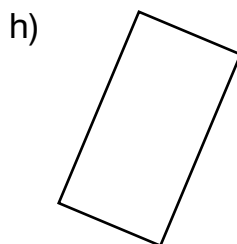
¿Es un rectángulo? ____



¿Es un cuadrilátero? ____

¿Tiene 4 ángulos rectos? ____

¿Es un rectángulo? ____



¿Es un cuadrilátero? ____

¿Tiene 4 ángulos rectos? ____

¿Es un rectángulo? ____



¿Es un cuadrilátero? ____

¿Tiene 4 ángulos rectos? ____

¿Es un rectángulo? ____